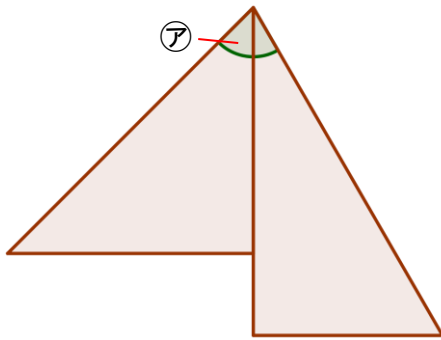


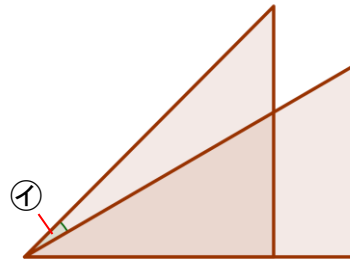
算数 SCORE30

3 下の図のように、1組の三角じょうぎを組み合わせてできるア、イの角度は何度ですか。

(8)

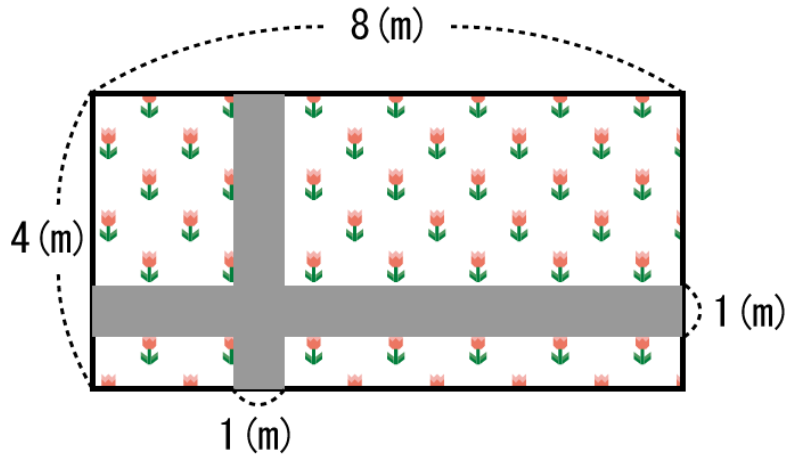


(9)



5 下の図のように、たて4(m)、よこ8(m)の長方形のしきちに、はば1(m)の道があり、道以外のところは花だんになっています。このとき、次の問いに答えなさい。

図



(13) しきちのよこの長さはたての長さの何倍ですか。次のア～エの中から1つ選び、記号で答えなさい。

- ア 2倍    イ 3倍    ウ 4倍    エ 8倍

(14) しきちの面積を、単位をつけて答えなさい。

(15) 道の面積を、単位をつけて答えなさい。